

















# TaskMagic3

## Pelmanism

			
			
			
			
Quelle heure est-il?	Il est deux heures moins le quart.	Il est deux heures.	Il est deux heures cinq.
Il est deux heures dix.	Il est deux heures et quart.	Il est deux heures vingt.	Il est deux heures vingt-cinq.
Il est deux heures et demie.	Il est trois heures moins vingt-cinq.	Il est trois heures moins vingt.	Il est trois heures moins le quart.
Il est trois heures moins dix.	Il est trois heures moins cinq.	Il est trois heures.	Il est trois heures et quart.